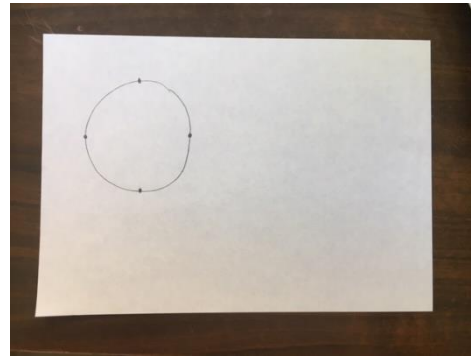
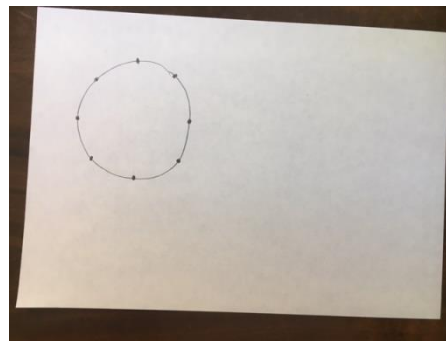




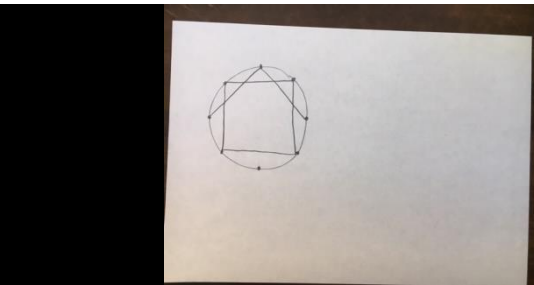
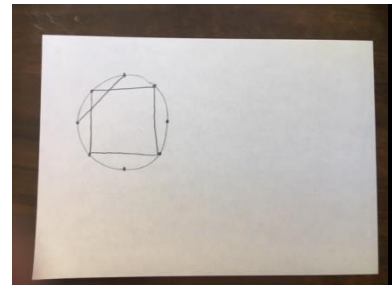
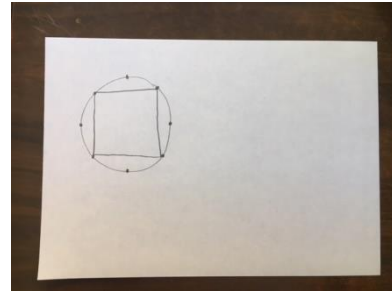
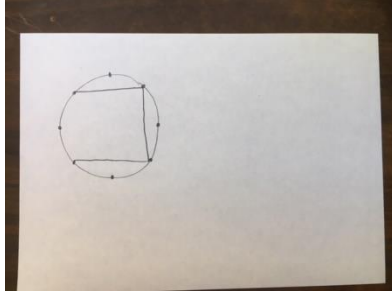
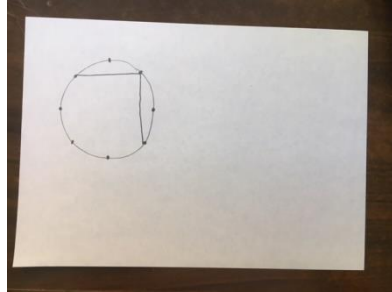
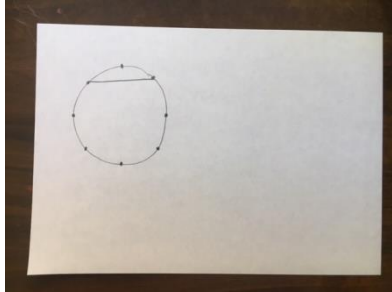
2. Most jelöljük be a negyedelő pontokat (először a felsőt, vele szemben az alsót, aztán a baloldalt, vele szemben a jobboldalt)! (mutassuk)

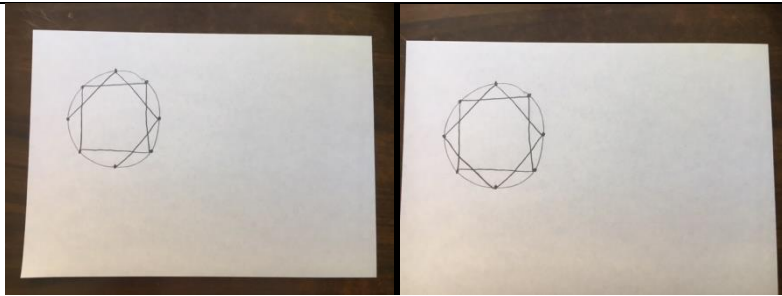


3. Felezzük meg a maradék részeket is! (mutassuk)



4. Most kössük össze a pontokat, lépésenként! (mutassuk)





5. Próbáljátok meg megismételni önállóan!

Összefoglalás:

A feladat a szabályosság-mértani szerkezet értelmezésére, az ebben való gondolkodásra szolgál. A szabálytartás, a megfigyelőképesség, a lépések tartása vezet a sikerhez. Figyelnünk kell a lemaradókra, jó, ha az első motívum megrajzolásánál együtt haladunk. Rajzolhatnak is a kész képkeretbe.